



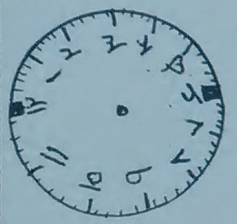
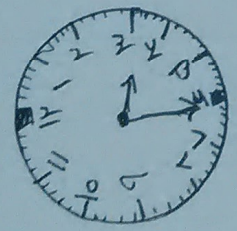
۱- حاصل عبارات را روی محور نشان بده.



$$5 + 4 - 2 = \underline{\quad}$$



$$70 - 30 = \underline{\quad}$$



صورت چوبی را نشان می دهد

کمیته ی ۱۰


یک ربع چهار

۲- حاصل جمع و تفریق ها را با روش کسترده بنویس.

$$\begin{array}{r} 48 \\ - 25 \\ \hline \end{array}$$

$$\begin{array}{r} 12 \\ + 48 \\ \hline \end{array}$$

$$\begin{array}{r} 75 \\ - 31 \\ \hline \end{array}$$



۳- دو شکل زیر چه تفاوت و شباهت هایی دارند؟

تفاوت:

شباهت:

۱- ۳- ۵- ۷-

۱- اکورال و سبد

خط تفریق نشان شکل های زیر را بکش.

